



المؤسسة :



اسم المتعلم :



3

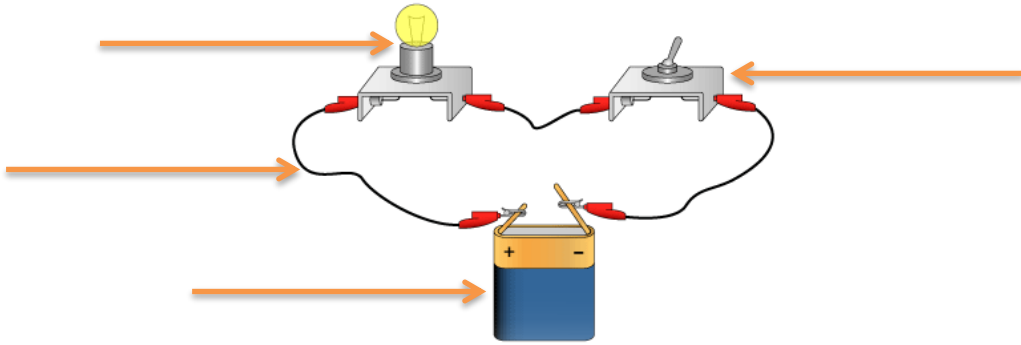
1 أصنف الأجسام التالية إلى موصلة وعازلة للكهرباء في الجدول التالي:

مسطرة بلاستيكية – سلك من نحاس – فيط – قطعة خشب – مقعد حديدي – زباجة – الماء – مسطرة من حديد – قلم

أجسام موصلة للكهرباء	أجسام عازلة للكهرباء

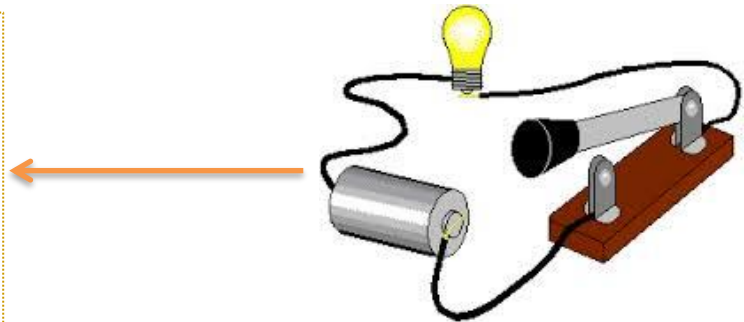

2

2 أكتب عناصر الدارة الكهربائية:



2

3 قم بتمثيلك الدارة الكهربائية التالية:



3

4 أضع علامة ✗ تحت التركيب على التوالي و ○ تحت التركيب على التوازي وألون المصابيح التي ستضيء

