

اسم المتعلم / المتعلمة :

النقطة المحصل عليها :

..... /20

..... /10

(2 نقتص)

1. أملأ الفراغات بما يناسب:

الْجِنْسِيَّة - عِلَامَات - التَّمْيِيز - أَجْسَامِهَا

يُمْكِنُ ..... يَبْنُ ذُكُورٍ وَإِنَاثٍ بَعْضِ الْحَيَوَانَاتِ بِمُلاحَظَةِ ..... تَظْهَرُ عَلَيَّ ..... وَتُسَمَّى بِالصِّفَاتِ .....





(4 نقتص)

2. أملأ البطاقات بكتابة: "بيوض" أو "ولود".



(1 نقتص)

3. أرتب مراحل دورة حياة الفراشة بوضع الأرقام من 1 إلى 4:



(1 نقتص)

4. تَكَاثَرِ النَّبَاتِ عَبْرَ مَجْمُوعَةٍ مِنَ الطَّرِيقِ مِنَ بَيْنِهَا ( أَلَوْنِ فَائَةِ الْجَوَابِ أَوْ الْأَجُوبَةِ الصَّحِيحَةِ ):

الْجَنِّي

الْبُنُورُ

الْأَفْتِسَالُ

الْتُرْبَةُ

(5, 1 نقتص)

5. أملأ الفراغات بما يناسب:

أَجْزَائِهَا - تَتَكَاثَرُ - بُدُورِهَا

يُمْكِنُ لِلنَّبَاتَاتِ أَنْ ..... دُونَ زَرْعِ ..... وَتَتَكَاثَرُ النَّبَاتَاتُ بِوَأَسِطَةِ غَرَسِ بَعْضِ .....

6. ماهي مكونات سطح الأرض:

(0,5 نقطة)

(1 نقطة)

7. ما هما العنصرين اللذين تترود بهما الشمس الأرض:

(1 نقطة)

8. ماهي العناصر التي تغير القارات على سطح الأرض ( ألون فانة الجواب أو الأجابة الصحيحة ):

الرياح

الزلازل

المياه

التربة

9. ألاحظ الصورة أسفله وأتمم:

(2 نقطة)

• أتمم أسماء كواكب المجموعة الشمسية.



(0,5 نقطة)

• عدد كواكب المجموعة الشمسية هو:

(1 نقطة)

• أصغر وأكبر كواكب المجموعة الشمسية هو:

(1 نقطة)

• أبعد وأقرب كواكب المجموعة الشمسية هو:

(0,5 نقطة)

• الكوكب الذي نعيش فيه هو:

(3 نقطة)

10. أجب بـ "صحيح" أو "خطأ" أمام كل عبارة من العبارات التالية:

الجواب	العبارة
.....	• تدور الأرض دورة كاملة حول الشمس خلال سنة واحدة.
.....	• تدور الشمس دورة كاملة حول الأرض خلال سنة واحدة.
.....	• تزود النشرة الجوية الإنسان بمعلومات عن حالة الطقس.
.....	• النشرة الجوية لا تلعب دوراً مهماً في حياة الإنسان اليومية.
.....	• نسبة اليابسة على سطح الأرض أكبر من نسبة الماء.
.....	• الأرض مصدر الضوء لكواكب المجموعة الشمسية.