

النشاط العلمي

1 أَكْتُبُ تَحْتَ كُلِّ حَيَوَانٍ (لَاحِمٌ) أَوْ (عَاشِبٌ) : [2ن]



.....

.....

.....

.....

2 أَصِلُ الْحَيَوَانَاتَ بِمَا يَسْتَعْمِلُهُ عِنْدَ التَّغْذِيَةِ : [1ن]



مِنْقَارٌ



أَسْنَانٌ



3 أَجِبْ بِصَحِيحٍ (ص) أَوْ خَطَأً (خ) : [2ن]

.....	- تَنْتَقِلُ الْحَيَوَانَاتُ سِبَاحَةً أَوْ مَشِيًّا أَوْ جَرِيًّا أَوْ قَفْزًا أَوْ زَحْفًا.
.....	- لَا تَقَعُ الْأَجْسَامُ عَلَى الْأَرْضِ عِنْدَ تَرَكِّهَا تَسْفُطًا.
.....	- يَسْتَعْمِلُ الصَّقْرُ أَسْنَانَهُ لِتَمْزِيقِ فَرِيستِهِ .
.....	- يُمَكِّنُ لِجِسْمِهِ أَنْ يَكُونَ سَاكِنًا أَوْ مُتَحَرِّكًا .

مراقبة مستمرة للمرحلة الرابعة

المستوى الأول

اسم الناميذ :

النشاط العلمي

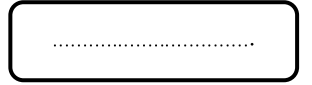
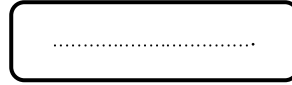

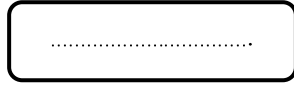
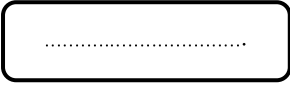
4 أرتب مراحل نمو الضفدعة بوضع الأرقام من 1 إلى 5: [ن1]




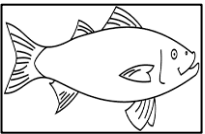

1



5 اكتب تحت كل صورة (دفع) أو (جذب) : [ن2]



6 اربط كل حيوان بوسط عيشه : [ن1]



7 اصل بسهم : [ن1]



صخرة



كرة بلاستيكية



مفتاح



قلم الرصاص

تجذب نحو القمر

تطفو