

النقطة

10

اختبار رقم 3 في مادة النشاط العلمي  
الاسم: .....

بَعْدَ سُقُوطِ الْأَمْطَارِ، وَتَقْلِيْبِ الْأَرْضِ، رَافَقَ مُضْطَفَى عَمَّهُ إِلَى الْحَقْلِ، لِيُسَاعِدَهُ فِي زَرْعِ الْقَمْحِ. بَعْدَ أَشْهُرٍ زَارَ مُضْطَفَى الْحَقْلَ مَعَ أُخْتِهِ، فَتَفَاجَأَ بِوُجُودِ أَزْهَارٍ كَثِيرَةٍ، مُحْتَلِطَةٍ مَعَ نَبَاتِ الْقَمْحِ. فَقَالَتْ لَهُ أُخْتُهُ: إِنَّهَا شَقَائِقُ التُّعْمَانِ، الَّتِي تَنْمُو لِوَحْدِهَا.

1 ن

أربط بخط لأحدد نوع كل نبات:

النشاط الأول

نبات تلقائي

القمح

نبات مزروع

شقائق النعمان

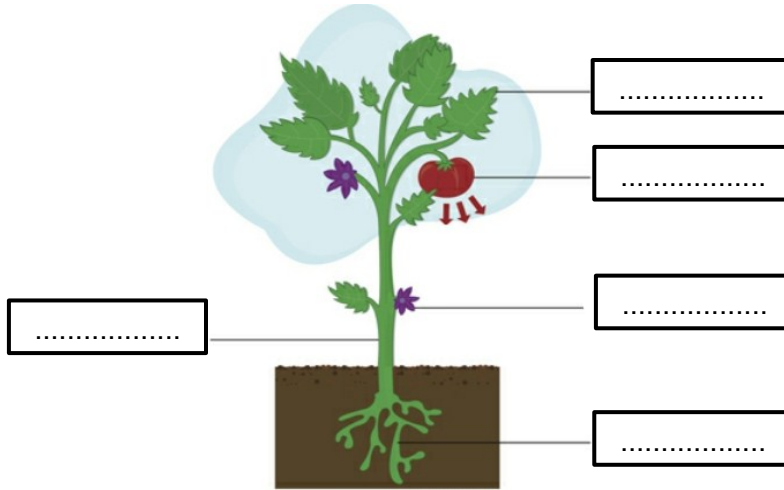


2.5 ن

ضع الأسماء التالية في المكان المناسب:

النشاط الثاني

الأوراق \_ الجذور \_ الثمار \_ الساق \_ الأزهار



1.5 ن

أكتب الرقم أمام العبارة الصحيحة:

النشاط الثالث

1



2



3



شكّل كفّ اليد .....

شكّل الرّمح .....

شكّل القلب .....



لنبات القمح:





- جذور: وندية - حزمية - عرضية

- أوراق: بسيطة - مركبة

- ساق: عشبي - خشبي

أحدد الأجزاء النباتية التي أكلها بوضع علامة (X):

النشاط الخامس

				البذرة
				الأوراق
				الجذر