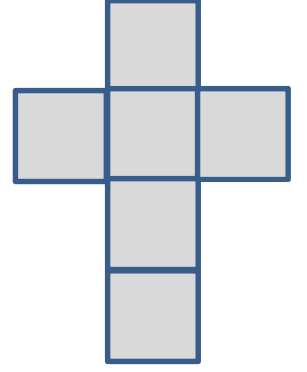


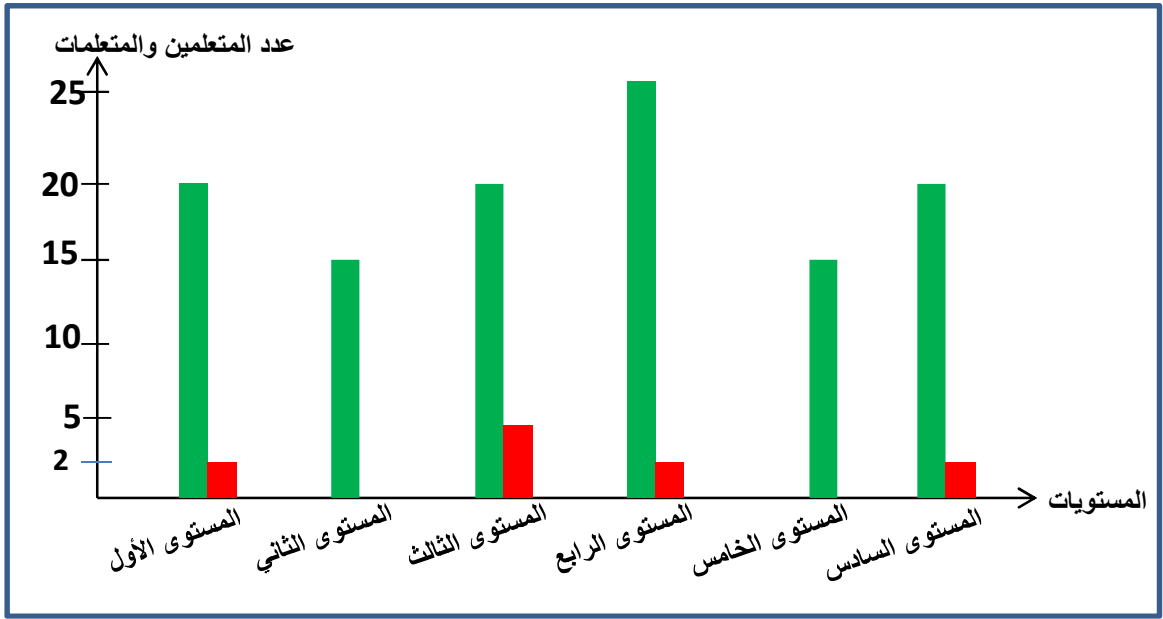




4- أحدد الشكل الذي يمثل نشر متوازي المستطيلات بوضع علامة (X): (0.5 نقطة)



4- يمثل المبيان التالي احصائيات لعدد الحاصلين على المعدل والغير الحاصلين عليه لمؤسسة تعليمية حسب المستويات: (1.5 نقطة)



أ- ما هو عدد المتعلمين والمتعلمات الذين تم احصائهم في هذه المؤسسة؟

ب- كم عدد المتعلمين الذين حصلوا على المعدل في هذه المؤسسة؟

ج- كم عدد المتعلمين والمتعلمات الغير الحاصلين على المعدل؟