

## الفرض 4 في مادة الرياضيات الدورة الثانية

### 1 - أَنْجِزِ الْعَمَلِيَّاتِ التَّالِيَةَ : 4 ن

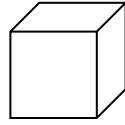

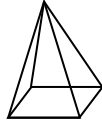
$$\begin{array}{r} 164 \\ \times 4 \\ \hline \dots \end{array}$$

$$\begin{array}{r} 132 \\ \times 8 \\ \hline \dots \end{array}$$

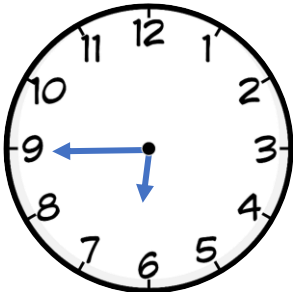
$$\begin{array}{r} 849 \\ - 389 \\ \hline \dots \end{array}$$

$$\begin{array}{r} 427 \\ + 375 \\ \hline \dots \end{array}$$

### 2 - أَمَلِّأِ الْجَدُولَ التَّالِيَ : 3 ن

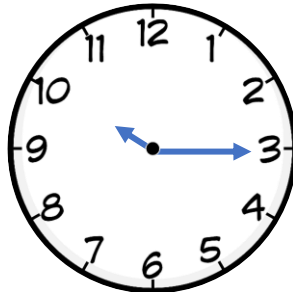
شكل الوجوه	عدد الحروف	عدد الوجوه	عدد الرؤوس	اسم الجسم	الجسم
.....	.....	.....	.....	.....	
.....	.....	.....	.....	.....	
.....	.....	.....	.....	.....	

### 3 - أَكْتُبِ السَّاعَةَ بِالْحُرُوفِ وَبِالْأَرْقَامِ : 3 ن



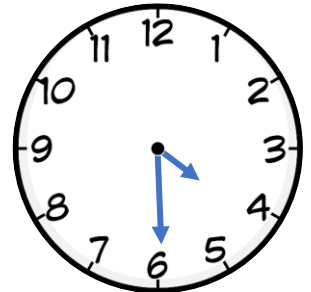
.....

:



.....

:



.....

: