



# مادة الرياضيات

## المراقبة المستمرة المرحلة الرابعة

الاسم: .....

أتمم ما يلي: (2ن)

(الغرام - اللتر)

أقيس السعة بـ: .....

أقيس الكتل بـ: .....

(السعة - الكتلة)



قياس .....



قياس .....

أنجز العمليات التالية: (3ن)

1

968 - 253 .....	476 + 485 .....	524 + 286 .....
84 x 7 .....	214 x 2 .....	751 - 167 .....

أصلِ بخط: (5,1ن)

4

عيد المولد النبوي

عيد الأضحى

عيد الفطر

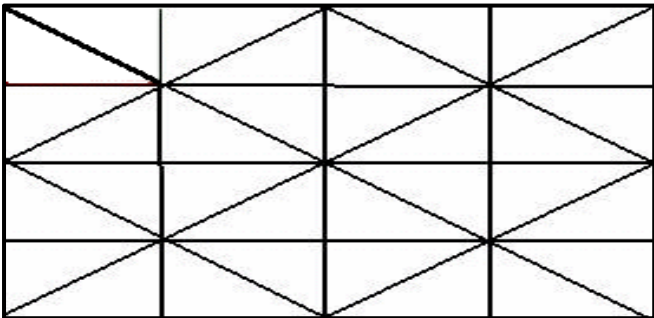
10 ذو الحجة

1 شوال

12 ربيع الأول


أرصف السطح باستعمال لونين مختلفين: (2ن)

5



النقطة

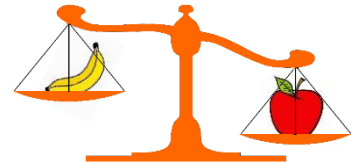
.....



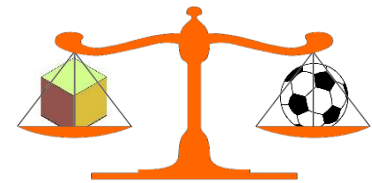
أنمِّم بِالْعِبَارَةِ الصَّحِيحَةِ: (5,1ن)

3

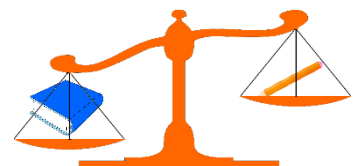
(أخف من / أثقل من / لها نفس ثقل)



التفاحة ..... الموزة



الكرة ..... العلبة



القلم ..... الكتاب