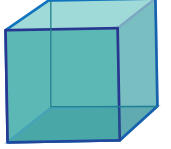
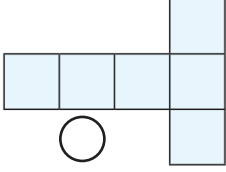


اليوم:

الاسم:

2ن

1 أكمل ملء الجدول:

المجسم	اسمه	عدد رؤوسه	عدد أحرفه	أضع علامة × تحت النثر الصحيح للمجسم
	<input type="checkbox"/>
	<input type="checkbox"/>


1ن

2 أضع علامة (×) على القطع والأوراق التقدية اللازمة لشراء الهدية:

182 درهما و 90 سنتيما

100 درهم 50 درهما 50 درهما 20 درهما 20 درهما

10 دراهم 10 دراهم 10 دراهم 1 درهم 1 درهم 20 سنتيما 20 سنتيما 50 سنتيما



2ن

3 اكتب التوقيت على الساعة الرقمية أو أرسم العقرب الناقص:

07 : 00 12 : 30 : :







2ن

4 أكمل:

1l = 10dl = 100cl

10l = dl 35dl = cl

300 cl = l 7l = dl



1ن

5 اقرأ المسألة جيّداً، ثمّ أبحث عن الحلّ:

* بمُناسبة رَمَضانَ، تُعدُّ فاطمةُ كُلَّ يَوْمٍ 420 حُبْزَةً. باعَتِ اليَوْمَ 316 حُبْزَةً
* كم بقي لها من حُبْزَةٍ؟ **الجواب:** بقي حُبْزَةٍ

2ن

6 أحسب:

$\begin{array}{r} \times \\ 48 \\ 4 \\ \hline \end{array}$ $\begin{array}{r} \times \\ 203 \\ 3 \\ \hline \end{array}$ $\begin{array}{r} - \\ 957 \\ 422 \\ \hline \end{array}$ $\begin{array}{r} + \\ 349 \\ 37 \\ \hline \end{array}$