

المؤسسة:

10

الإسم:

/2

❖ أحسب كل مجموع أو فرق أو جداء حسب كل عملية من العمليات اسفله :

106 × 4 ...	231 × 3 ...	305 × 2 ...	126 × 5 ...	872 + 51 ...	430 + 123 ...	106 - 88 ...	289 - 63 ...
-------------------	-------------------	-------------------	-------------------	--------------------	---------------------	--------------------	--------------------

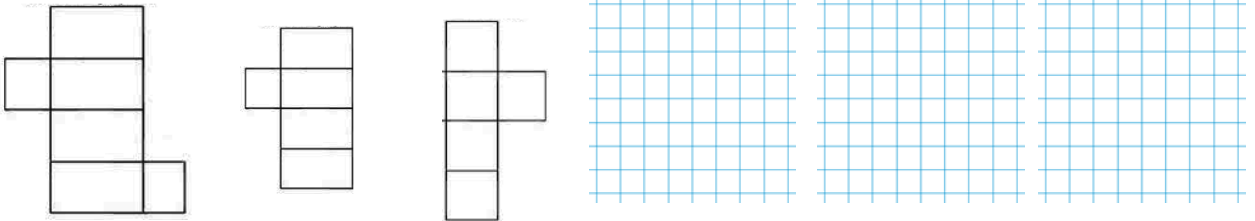
/3

❖ ذهب أحمد و كريم إلى السوق، فاقتني كل واحد المقتنيات أسفله. أملأ الجدول بما يناسب :

أرجع له التاجر	دفع كريم	المشتريات	أرجع له التاجر	دفع أحمد	المشتريات
..... DHS		70 DHS  DHS		15 DHS 
..... DHS		150 DHS  DHS		3 DHS 
..... DHS		35 DHS  DHS		4 DHS 


/2


❖ أرسم مثلثاً قائم الزاوية، مربعاً، وقرصاً و ألون : ❖ ألون نشر متوازي المستطيلات الصحيح :



/3

❖ أكتب القيمة الصحيحة و وحدة القياس المناسبة في كل حالة من الحالات التالية ل أو kg :




 :
