

ن1 / أكتب بالأرقام :

6 وحدات و 5 عشرات .

4 عشرات .



ن2 / أصل بخط أو أكمل.

90

35

.....

53

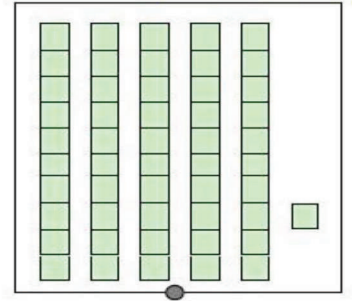
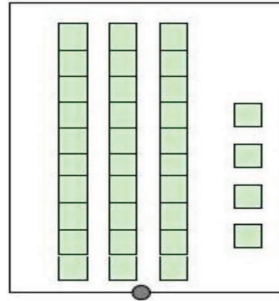
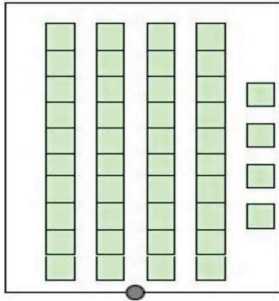
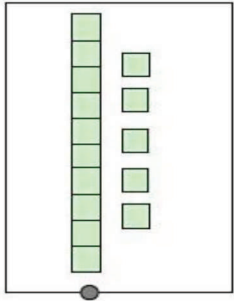
خَمْسَةٌ وَ ثَلَاثُونَ

ثَلَاثَةٌ وَ خَمْسُونَ

.....

أَرْبَعَةٌ وَ سِتُّونَ

ن2 / أصل بخط



34

51

44

15

ن2 / أرتب الأعداد التالية من الأصغر إلى الأكبر :

45 ; 6 ; 38 ; 13

..... &lt; ..... &lt; ..... &lt; .....



/ أنجز:

$$\begin{array}{r} 25 \\ + 15 \\ \hline \end{array}$$

. .

$$\begin{array}{r} 54 \\ + 30 \\ \hline \end{array}$$

. .

$$\begin{array}{r} 37 \\ + 14 \\ \hline \end{array}$$

. .

ن3