

رياضيات

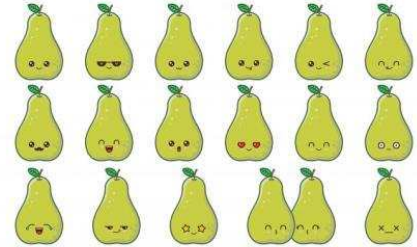

الأستاذ :

اسم المتعلم:

المؤسسة :



2 ن ا. أكتب الجداءات المناسبة ثم أحسب النتيجة



..... X =

..... X =

2 ن ا. أحسب كل مجموع وكل جداء من العمليات الآتية:

6 x 2 =

4 + 4 + 4 + 4 = x =

10 x 3 =

2 + 2 + 2 + 2 + 2 + 2 = x =

2 ن ا. أكتب معلمة كل خانة

4				
3				
2				
1				
	أ	ب	ج	د

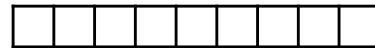
(,)

(,)

(,)

(,)


2 ن ا. أحده قن المسار المرسوم على الشبكة



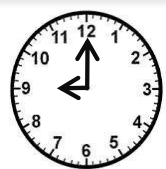
2 ن ا. أربط كل ساعة عقريية بالساعة الرقمية المناسبة



5:15



7:30



9:00