

اسم المؤسسة

اسم المتعلم(ة)

(1) أنجز عمليتي الجمع والطرح التاليتين : (ن2)

$4\ 561 + 2\ 312$	$6\ 067 - 1\ 705$

(2) حول إلى الوحدة المطلوبة وذلك باستعمال جدول التحويلات : (ن2)

m	dm	cm	mm

\rightarrow 3 m = dm
 \rightarrow 4 mm = cm
 \rightarrow 10 dm = mm
 \rightarrow 24 dm = m

(3) رتب وحدات الأطوال التالية تصاعدياً : 6m - 12 cm - 35 cm - 24 cm (ن1)




(4) مثل الأعداد في الجدول أسفله : (ن2)

وحدات	عشرات	مئات	آلاف
879			
1 310			
9 804			
65			

(5) قارن الأعداد بوضع الرمز المناسب : " > ; < ; = " (ن1.5)

$8\ 280$ $5\ 210$; $1\ 253$ $1\ 000$; 728 $727+1$

(6) اكتب اسم كل نوع من الزوايا التالية : (ن1.5)

		
.....